

ZADANIA OGÓLNE

Zadanie 1

Dzietki z klasy II a zbieiały liście na bukiet. Zebrali 10 liści dębu, 4 liście kasztanowca, 2 liście klonu i 4 liście brzozy. Ile liści zebrali dzieci?

Odp.

Zadanie 2

Podczas jesiennego spaceru Zosia zebrala 12 liści dębu, a Marysia 6. Ile liści razem zebrali dziewczynki?

Odp.

Zadanie 3


Chłopczy zbierali w parku kasztany na zajęcia techniczne w szkole. Bartek ma w koszyku 11 kasztanów, a Adaś o 4 mniej. Ile kasztanów razem mają chłopcy?

Odp.

Zadanie 4



Rodzina Tomka wybrała się na grzyby. Tomek ma już w koszyku 4 prawdziwki, tata Tomka ma o 2 grzyby więcej od Tomka, mama ma o 1 grzyb mniej od taty, a siostra Tomka nie znalazła jeszcze żadnego grzyba. Ile grzybów razem ma rodzina Tomka? Wykonaj rysunek pomocniczy.



Odp.

Zadanie 5

W sadzie dziadka Karola rośnie 18 jabłoni. Dziadek musiał wyciąć 3 jabłonie, ponieważ były chore. Ile drzew pozostało w sadzie?

Odp.

Zadanie 6

Mama przyniosła z sadu 20 jabłek. Ela zjadła 3 jabłka, a jej brat 4. Ile jabłek zostało?

Odp.

Zadanie 7

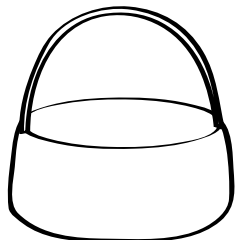
Babcia z wnuczką Tereską poszły do sadu narwać owoców na kompot. Babcia zerwała 12 jabłek, a Tereska o 5 mniej gruszek. Ile owoców razem przyniosą babcia i jej wnuczka?

Odp.

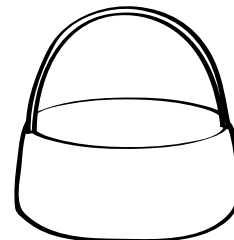
Zadanie 8



Kasia, jej rodzice i babcia byli na grzybobraniu. Babcia i Kasia zebrały 6 prawdziwków, a rodzice zebrali o 4 prawdziwki więcej od babci i Kasi. W domu babcia przygotowała sos z 6 grzybów, a resztę ususzyła. Ile grzybów babcia ususzyła? Wykonaj rysunek pomocniczy: narysuj grzybki, które zebrali babcia z Kasią i rodzice, a następnie skreśl te, które babcia wzięła do sosu.



babcia i Kasia



rodzice

Odp.

Zadanie 23

Mama kupiła 20 kwiatów. Kupiła 6 róż, 3 gerbery, 8 frezji i kilka tulipanów. Ile tulipanów kupiła mama?

Odp.

Zadanie 24



Na parkingu przed sklepem są 22 miejsca. Wszystkie są zajęte. Wśród samochodów stoi 14 samochodów niebieskich i 10 samochodów kombi. Ile jest niebieskich samochodów kombi? Wykonaj rysunek pomocniczy.

Odp.

Zadanie 25

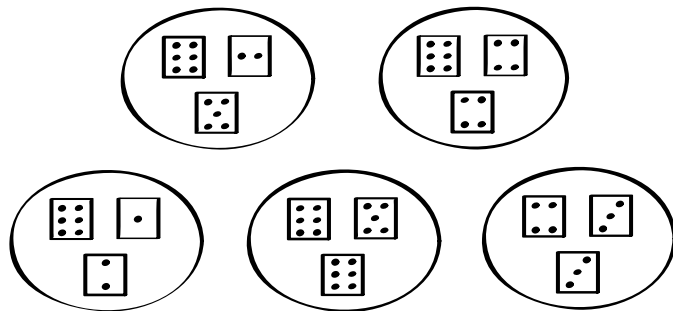


Marysia miała szesnastokartkowy zeszyt w linie. Dwie kartki wyrwała, a 4 strony zapisała. Ile czystych kartek zostało w zeszycie?

Odp.

Zadanie 26

Szymon rzucał trzema kostkami do gry. Pomóż Szymonowi obliczyć, ile za każdym razem oczek brakowało mu do 20.



Odp.