

1 Przeczytaj tekst źródłowy. Następnie wykonaj polecenia.**Pobór do armii rzymskiej**

Rzymianie po mianowaniu konsulów wybierają trybunów wojskowych¹ i to czternastu spośród tych, którzy mają już pięć lat służby wojskowej [...]. A do urzędu państwowego nie może nikt dojść, zanim nie odbędzie dziesięcioletniej służby wojskowej. Kiedy ci, którzy piastują władzę konsularną, zamierzają przeprowadzić zaciąg żołnierza², zapowiadają na zgromadzeniu ludu dzień, w którym mają się stawić wszyscy pełnoletni Rzymianie. A czynią to corocznie. [...]

Źródło: M. Sobańska-Bondaruk, S. Lenard, *Ćwiczenia źródłowe dla gimnazjum*, Warszawa 2002, s. 64.

¹ trybun wojskowy – oficer w armii rzymskiej

² zaciąg żołnierza – pobór do wojska

a) Skreśl w nawiasie błędną informację, tak aby powstało zdanie prawdziwe.

Tekst dotyczy poboru do armii w czasach, gdy państwo rzymskie było (*republika* / *cesarstwem*).

b) Napisz, kto przeprowadzał pobór do wojska.**c) Wyjaśnij, jaki warunek należało spełnić, by zostać urzędnikiem państwowym.****2 Wyjaśnij, dlaczego wilczyca kapitolńska jest uznawana za symbol Rzymu.**

(... / 1 p.)

3 Skreśl w nawiasie błędne informacje, tak aby powstały zdania prawdziwe.

(... / 2 p.)

W sytuacji zagrożenia republiki rzymskiej jej obywatele powoływali (*konsula* / *dyktatora*).

Za pierwszego cesarza Rzymu uznaje się (*Gajusza Juliusza Cezara* / *Oktawiana Augusta*).

4 Zaznacz właściwe dokończenie zdania.

(... / 1 p.)

W republice rzymskiej najważniejszym urzędnikiem, który zwoływał zgromadzenie ludowe i senat, a w czasie wojny dowodził armią, był

A. pretor.

B. konsul.

C. kwestor.

D. dyktator.

5 Zaznacz właściwe dokończenie zdania.

(... / 1 p.)

W starożytnym Rzymie za pobór podatków odpowiadali

A. pretorzy.

B. senatorowie.

C. kwestorzy.

D. konsulowie.

6 Przeczytaj tekst źródłowy. Następnie wykonaj polecenia.

(... / 3 p.)

Pobór do armii rzymskiej

Rzymianie po mianowaniu konsulów wybierają trybunów wojskowych¹ i to czternastu spośród tych, którzy mają już pięć lat służby wojskowej [...]. A do urzędu państwowego nie może nikt dojść, zanim nie odbędzie dziesięcioletniej służby wojskowej. Kiedy ci, którzy piastują władzę konsularną, zamierzają przeprowadzić zaciąg żołnierza², zapowiadają na zgromadzeniu ludu dzień, w którym mają się stawić wszyscy pełnoletni Rzymianie. A czynią to corocznie. [...]

Źródło: M. Sobańska-Bondaruk, S. Lenard, *Ćwiczenia źródłowe dla gimnazjum*, Warszawa 2002, s. 64.

¹ trybun wojskowy – oficer w armii rzymskiej

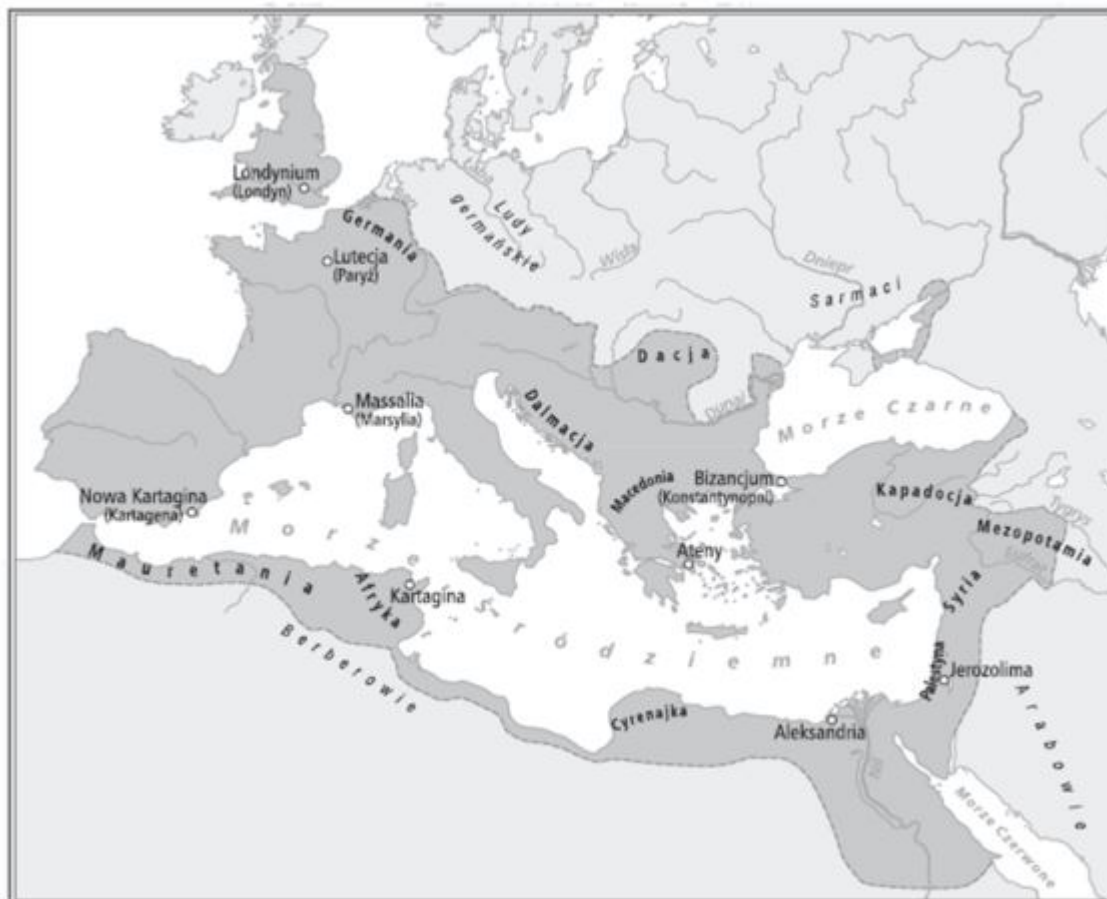
² zaciąg żołnierza – pobór do wojska

a) Skreśl w nawiasie błędną informację, tak aby powstało zdanie prawdziwe.

Tekst dotyczy poboru do armii w czasach, gdy państwo rzymskie było (*cesarstwem* / *republika*).

b) Napisz, jak często odbywał się w Rzymie pobór do wojska.**c) Wyjaśnij, jakie warunki należało spełnić, aby zostać trybunem wojskowym.****7 Wyjaśnij, kim byli gladiatorzy. Napisz, kto zwykle zostawał gladiatorem.**

(... / 2 p.)



- a) Zaznacz położenie Rzymu i zapisz nazwę tego miasta.
- b) Zapisz we właściwym miejscu nazwę rzymskiej prowincji Galia.
- c) Podkreśl nazwę miasta, które było stolicą cesarstwa wschodniorzymskiego.

9 Uzupełnij tabelę dotyczącą bogów czczonych przez starożytnych Rzymian.

Bóstwo rzymskie	Dziedzina, którą opiekowało się bóstwo	Grecki odpowiednik rzymskiego bóstwa
Jowisz		Zeus
Mars	bóg wojny	
	bogini mądrości, sztuki i rzemiosła	Atena

10 Zaznacz właściwe dokończenie zdania.

Grupa społeczna w starożytnym Rzymie, do której zaliczano ludzi wolnych, zajmujących się rzemiosłem lub pracą najemną, to

- A. patrycjusze.
- B. plebejusze.
- C. niewolnicy.
- D. barbarzyńcy.

11 Przyporządkuj do poszczególnych budowli właściwe opisy.

- | | |
|---|---|
| <ul style="list-style-type: none"> 1. akwedukt 2. Circus Maximus 3. łuk triumfalny 4. Panteon | <ul style="list-style-type: none"> A. świątynia poświęcona wszystkim rzymskim bogom B. konstrukcja zaopatrująca miasto w świeżą wodę z górskich źródeł C. amfiteatr, w którym odbywały się starcia gladiatorów i walki z dzikimi zwierzętami D. obiekt, w którym odbywały się wyścigi rydwanów E. brama wzniesiona dla upamiętnienia wielkich zwycięstw wodzów lub cesarzy |
|---|---|


1. _____ 2. _____ 3. _____ 4. _____

12 Wyobraź sobie, że jesteś rzymskim senatorem. Wskaż, którą spośród podanych budowli zaproponujesz cesarzowi do wzniesienia jako najbardziej potrzebną i użyteczną. Uzasadnij swój wybór. (... / 1 p.)

A. amfiteatr

B. akwedukt

C. łuk triumfalny




13 Przyjrzyj się ilustracji. Następnie napisz, jak nazywa się tego typu budowla i jaka była jej funkcja. (... / 2 p.)

Nazwa budowli:

Funkcja budowli:

.....

.....



14 Wyjaśnij znaczenie powiedzenia: *Wszystkie drogi prowadzą do Rzymu.* (... / 1 p.)


15 Przyjrzyj się zamieszczonej ilustracji. Następnie zaznacz właściwe zakończenie każdego zdania. (... / 2 p.)

1. Ilustracja przedstawia

- A. łuk triumfalny.
- B. bazylikę.
- C. amfiteatr.
- D. akwedukt.

2. Ukazana budowla służyła jako

- A. most dla wojska.
- B. wodociąg.



- C. symbol triumfu wodza lub cesarza
- D. świątynia.

16 Przyjrzyj się ilustracji. Następnie napisz, jak nazywa się tego typu budowla i w jakim celu była wznoszona. (... / 2 p.)

Nazwa budowli:

Cel wzniesienia budowli:

.....



17 Wyjaśnij, co oznacza rzymska reguła prawna: *Prawo nie działa wstecz.* (... / 1 p.)

18 Wyjaśnij, dlaczego wydanie przez Konstantyna Wielkiego Edyktu mediolańskiego było niezwykle ważne dla chrześcijan. (... / 1 p.)

19 Zaznacz właściwe dokończenie zdania.

(... / 1 p.)

Na wyznawanie chrześcijaństwa w Imperium Rzymskim zezwolił w specjalnym edyktie

- A. Oktawian August.
- B. Justynian I Wielki.

- C. Gajusz Juliusz Cezar.
- D. Konstantyn Wielki.